

Chủ đề


3

PHÉP CỘNG, PHÉP TRỪ
TRONG PHẠM VI 10

Bài 10

PHÉP CỘNG TRONG PHẠM VI 10

TIẾT 1



Khám phá

Gộp lại thì được mấy?

a)

Gộp 3 quả bóng và 2 quả bóng được mấy quả bóng?



$$3 + 2 = 5$$

Ba cộng hai bằng năm. Dấu cộng: +



Gộp lại thì được mấy?

b)



$$1 + 3 = 4$$

Một cộng ba bằng bốn



1

Số

?

a)



$1 + 1 =$

2

b)



$2 + 1 =$

3

c)



$3 + 1 =$

4

d)



$1 + 4 =$


5

2

Số


?

a)



$$2 + 2 = 4$$

b)




$$4 + 1 = 5$$

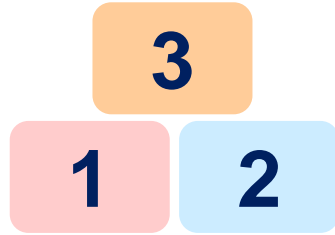
3

SÓ

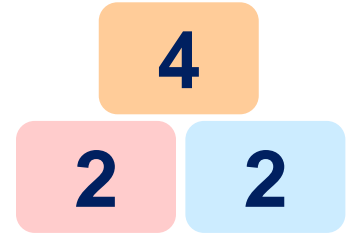
a)



$$2 + 3 = 5$$



$$1 + 2 = 3$$



$$2 + 2 = 4$$

b)



$$1 + 1 = 2$$



$$3 + 1 = 4$$



$$2 + 1 = 3$$